

社会

1 一郎さんたちは、選択社会の授業で2006年6月から行われたサッカーワールドカップで日本が属したグループの国々について、学習することになりました。次は、一郎さんが計画した調査内容の一部です。これを読み、〔問1〕～〔問5〕に答えなさい。

- 1 調べる国 … ① ブラジル、オーストラリア、クロアチア、日本
- 2 調べる場所・方法 … 学校の図書室、公立図書館、インターネット、新聞記事 など
- 3 調べること
 - 人口、国土面積、位置、② 気候 → 日本と比較しながらまとめる。
 - ③ 農業 → 農業に関し、4か国の特徴をまとめる。
 - 経済 → ④ 国民総所得をもとに4か国の状況をまとめる。
商品の⑤ 価格などを調べ、経済のようすを知る。

〔問1〕 調査内容中の下線①に関し、次の略地図に、それぞれの国の位置を示しています。(1)、(2)に答えなさい。



- (1) 略地図中のクロアチアは、6大陸のうち、どの大陸に属していますか、書きなさい。
- (2) ブラジル、オーストラリア、クロアチア、日本のうち、最も遅く日付が変わるのは、ブラジルです。その理由を簡潔に説明しなさい。

〔問2〕 調査内容中の下線②に関し、次の文は、一郎さんがある国の気候について調べたものの一部です。ブラジル、オーストラリア、クロアチア、日本のうち、どの国の気候を述べたものですか、その国名を書きなさい。

この国の気候帯は、北部の熱帯、内陸部から西部にかけての乾燥帯、そして、東部、南東部、南西部の温帯と、大きく3つに分けることができる。

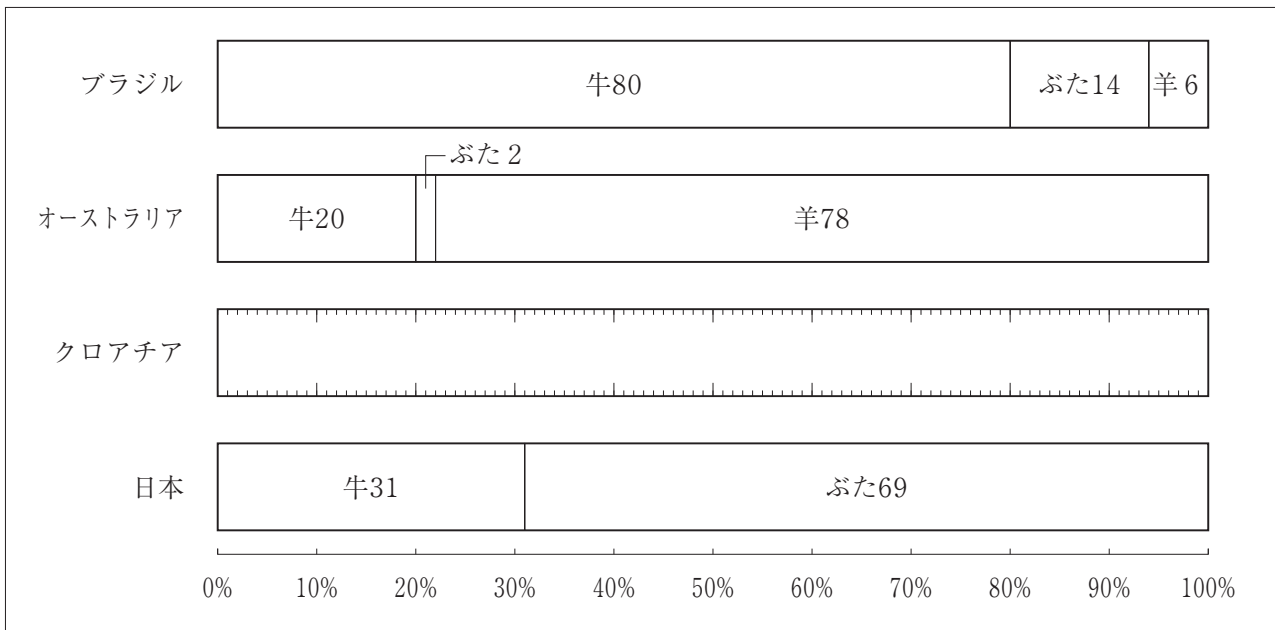
〔問3〕 調査内容中の下線③に関し、表1は、4

表1
か国の牛、ぶた、羊の頭数を表したものです。また、次の図1は、4か国における牛、ぶた、羊の合計頭数に占めるそれぞれの割合をグラフに表そうとしたものです。ブラジル、オーストラリア、日本にならって、クロアチアのグラフを作成し、解答欄にかき入れなさい。ただし、小数点第1位を四捨五入して表しなさい。

	牛、ぶた、羊の頭数(単位 千頭)			
	牛	ぶた	羊	合計
ブラジル	192000	33000	14182	239182
オーストラリア	27900	2556	106000	136456
クロアチア	471	1205	796	2472
日本	4401	9600	11	14012

(「世界国勢図会」2006/07年版から作成)

図1



(注) 日本の羊の割合は、単位に満たないため0となっています。

〔問4〕 調査内容中の下線㉑に関し、次の表2は、4か国の2000年、2004年の国民総所得を、国民全体と1人あたりに分けて表しています。この表から読み取れる内容として適切なものを、次のア～エの中から1つ選び、その記号を書きなさい。

表2

	2000年		2004年	
	全体(百万ドル)	1人あたり(ドル)	全体(百万ドル)	1人あたり(ドル)
ブラジル	623828	3590	551650	3000
オーストラリア	384157	20060	544343	27070
クロアチア	19715	4500	30295	6820
日本	4458846	35140	4734255	37050

(「世界国勢図会」2006/07年版から作成)

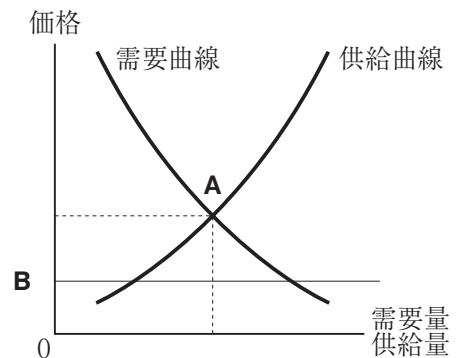
- ア 日本は、所得額が4か国の中で全体、1人あたりとも増えている唯一の国である。
- イ ブラジルは、所得額が4か国の中で全体、1人あたりとも減少している唯一の国である。
- ウ オーストラリアは、所得額が4か国の中でいずれの年も全体、1人あたりとも最も多い国である。
- エ クロアチアは、所得額が4か国の中でいずれの年も全体、1人あたりとも最も少ない国である。

〔問5〕 調査内容中の下線㉒に関し、図2は、ある商品の需要・供給と価格の関係を表しています。(1)、(2)に答えなさい。

- (1) 図2中の交点Aの価格を何といいますか、書きなさい。
- (2) 図2中の交点Aの価格より安いBのとき、価格はこの後どのように変動すると考えられますか。次の語句を用いて簡潔に説明しなさい。

需要量 供給量

図2



2 次の文は、あやのさんたちが社会科の授業で、かつて和歌山県を訪れた人物について調べたものの一部です。これを読み、〔問1〕～〔問8〕に答えなさい。

私たちは、教科書に登場する人々のなかで、どのような人がかつて和歌山県を訪れたかを調べてみることにしました。すると、大きく4つのグループに分けられることがわかりました。

まず、寺社などを訪れた皇族や貴族です。書物には、**①**天武天皇の皇后であった持統天皇が白浜を訪れたことや、奈良に東大寺を建てた**②**聖武天皇、都を京都に移した桓武天皇の二人が和歌浦を訪れたことについて記載されていました。また、白河上皇、後白河上皇や「新古今和歌集」を編さんした藤原定家は熊野に参拝しています。

次は、布教活動で訪れた僧のグループです。空海は高野山に金剛峯寺を建て、真言宗の開祖となり全国に広めました。一遍は高野山や熊野に参拝しています。

武家政権を代表する人々のグループとして、**③**鎌倉時代、源頼朝の妻である は熊野を、**④**室町時代には三代将軍の足利義満が高野山を訪れています。また、織田信長や**⑤**豊臣秀吉の軍は雑賀、根来寺を攻め、その後秀吉は和歌山を平定して和歌山城の築城を命じています。

最後は、文化人や政治家のグループです。医師であり、**⑥**国学を大成した本居宣長は、紀州藩主の招きで登城しています。また、**⑦**明治時代には、夏目漱石や護憲運動を起こした尾崎行雄も和歌山に来ています。

〔問1〕 文中の にあてはまる人物名を書きなさい。

〔問2〕 文中の下線**①**は、天智天皇の死後、後継ぎをめぐる戦いに勝利し、天皇となりました。この戦いを何といいますか、書きなさい。

〔問3〕 文中の下線**②**に関し、(1)、(2)に答えなさい。

(1) この時代の文化の記述として適切なものを、次の**ア**～**エ**の中から1つ選び、その記号を書きなさい。

- ア** 聖徳太子が法隆寺を建て、朝鮮から渡来した人々が活躍した。
- イ** かな文字がつくられ、貴族は寝殿造の邸宅に住んだ。
- ウ** 五弦の琵琶など、西アジアやインド等の影響を受けた工芸品が伝わった。
- エ** 床の間をもつ書院造が広まり、書画などが飾られ、茶の湯が流行した。


(2) この人物が地方の国ごとに建てた寺院を何といいますか、1つ書きなさい。

〔問4〕 文中の下線**③**に関し、次の**ア**～**エ**を年代の古い順に並べるとどのようになりますか、その記号を順に書きなさい。

- ア** 幕府は借金で領地を失った御家人の生活を救うため、徳政令を出した。
- イ** 幕府を倒して朝廷の勢力を回復させるため、後鳥羽上皇が承久の乱を起こした。
- ウ** 日本を従えるため、元は九州北部に攻め寄せ、文永の役が起こった。
- エ** 北条泰時が裁判の基準を御家人に示すため、御成敗式目をつくった。

〔問5〕 文中の下線**④**に関し、次の**図**を見て(1)、(2)に答えなさい。

図



- (1) 図中で、左側の明軍と戦っている、○で示した海賊は、一般に何とよばれていましたか、書きなさい。
 (2) 海賊と区別するため、正式な貿易船に持たせた札を何といいますか、書きなさい。

〔問6〕 文中の下線㉔に関し、身分統制のため兵農分離を目的として進められた政策は何ですか、2つ書きなさい。

〔問7〕 文中の下線㉕が及ぼした影響として最も適切なものを、次のア～エの中から1つ選び、その記号を書きなさい。

- ア 水野忠邦が株仲間の解散などを行った天保の改革のよりどころとなった。
- イ 尊王論と結びつき、幕府を批判する思想のよりどころとなった。
- ウ 大阪町奉行所の役人であった大塩平八郎が反乱を起こすよりどころとなった。
- エ 鎖国を批判した渡辺崋山や高野長英らの考え方のよりどころとなった。

〔問8〕 文中の下線㉖の中ごろに、わが国は産業革命をむかえ、製糸業が急速に発展しました。その理由を、外国との関係に着目して簡潔に書きなさい。

3 次の文は、典子さんたちが、社会科の授業で市町村合併について調べ、まとめたものの一部です。これを読み、〔問1〕～〔問4〕に答えなさい。

私たちが住んでいる町は周辺の町と合併し、新しい市になりました。このような合併は、**㉗**国が中心になって進められ、**㉘**和歌山県では、昨年3月の新しい「橋本市」・「白浜町」の誕生で、50市町村から30市町村に改められました。この取り組みは、全国的に進められていて、「平成の大合併」といわれています。

市町村合併が行われる理由として、地方分権を担うことができる行財政力をもった**㉙**地方公共団体をつくるといったことがあるのだそうです。

和歌山県のホームページにも、合併のよいところなどが掲載されていて、高齢者への**㉚**福祉サービスが安定して提供できることなどがあげられていました。

この合併をきっかけに、私たち住民も、主体的に考え、住みよい地域をつくるための努力をしていかなければならないと思いました。

〔問1〕 文中の下線㉗に関し、国や地方公共団体の機関で働く職員について、日本国憲法では次のように定めています。次の条文の□には同じ語句が入ります。あてはまる語句を書きなさい。

第15条② すべて公務員は、全体の□であって、一部の□ではない。

〔問2〕 文中の下線㉘に関し、次の表は、和歌山県と和歌山県に陸地で接する府県の総面積、人口の増加数、製造品出荷額等、漁獲量をそれぞれ表しています。和歌山県にあたるものを表のA～Dの中から1つ選び、その記号を書きなさい。

表	総面積(km ²)	人口の増加数(千人)	製造品出荷額等(億円)	漁獲量(t)
	2005年	2000～2005年	2004年	2004年
A	5777	9.8	88110	187143
B	4726	-34.0	23817	40022
C	3691	-21.0	21844	200
D	1894	12.0	162213	22731

(「データでみる県勢」2007年版から作成)

〔問3〕 文中の下線㉙を単位にして地方自治が行われ、「地方自治は民主主義の学校」といわれています。一般に地方自治がこのように表現される理由を簡潔に説明しなさい。

〔問4〕 文中の下線㉚は、どの権利を保障するために行われていますか。最も適切なものを次のア～エの中から1つ選び、その記号を書きなさい。

- ア 自由権 イ 請求権 ウ 平等権 エ 生存権